

MATEMATIKA

PONOVITEV

1. Maja je v trgovini kupila 60 dag makaronov, 30 dag mandarin in 10 dag čokolade. Kako težko vrečko bo nosila Maja?

R:

O: _____

2. Na tržnici so v ponedeljek prodali 100 kg sadja. V torek so ga prodali 34 kg manj. Koliko kilogramov sadja so prodali v torek?

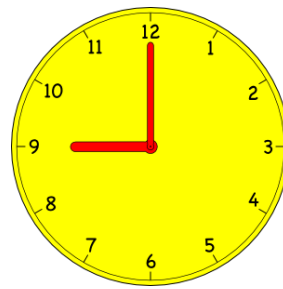
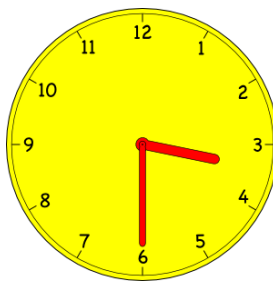

R:

O: _____

3. Kaj tehta več, 1 kg železa ali 1 kg slame?

O:

4. Koliko je ura?



k31518185 www.fotosearch.com

5. Dopolni

- Ura je 13.00. Lutkovna predstava bo čez 3 ure. Lutkovna predstava se začne ob _____.
- Anja je prišla k Lari na obisk ob 16.00. Tam je bila 2 uri. Domov je šla ob _____.
- Domen je na igrišču tri ure. Ura je 17.00. Domen je prišel na igrišče ob _____.
- Učenci so odšli na pohod ob 8.00. Hodili so tri ure, malicali in počivali pa so eno uro. Na cilj so prispeli ob _____.

6. Odgovori

16.25	Deželica <u>Pimpan</u>
16.30	Ribič Pepe: Pepetov avtomobilček
17.00	Poročila ob petih
17.15	Vreme
17.20	Šport
17.40	Pogled na ...
17.55	Začnimo znova: Tak isti Toni
18.30	<u>Pokec</u>
18.35	Janezek in Samuel
18.55	Vreme
19.00	Dnevnik
19.45	Vreme
19.50	Šport
20.00	Tednik

- Ob kateri uri je vreme?
- Kaj je na programu ob 16.30?

- Ob kateri uri je Dnevnik?
- Kaj je na programu ob 20.00?

7. So trditve pravilne ali napačne? Napačne trditve popravi.

- Danes sem popila 20 l vode.
- Prostornino lahko merimo v litrih.

- Kmet je namolzel 15 kg mleka.
- V trgovini sem kupila 3 cm soka.
- Marko tehta 30 litrov.
- Mama je skuhala 205 litrov juhe.

